

Шифр участника _____

ЗАДАНИЯ ДЛЯ ОБУЧАЮЩИХСЯ

Время выполнения заданий – 60 минут

Максимальное количество баллов – 100 баллов

Задание 1.

Выберите верный ответ. Правильные ответы внесите в таблицу.

1.1. Выберите один верный ответ.

Максимальный балл – 5 (по 0,5 балла за каждый правильный ответ).

1. В каком году Рюрик был призван на княжение:

- а) 860 б) 862 в) 882 г) 980

2. Какое событие относится к XI в.:

- а) Первый письменный договор Руси с Византией б) съезд в г. Любече
в) Разорение Киева силами Батыя г) Принятие Судебника

3. Битва между шведами и русскими в 1240г. получила название:

- а) Невская битва б) Мамаево побоище в) стояние на Угре г) битва на Калке

4. Какое событие произошло в 988г.?

- а) Крещение Руси б) Языческая реформа
в) Куликовская битва г) Битва на р. Воже

5. Какое событие произошло раньше других:

- а) Крещение княгини Ольги б) Гибель Святослава Игоревича
в) битва на р. Калке г) призвание Рюрика

6. Кто является автором первой русской летописи:

- а) Никон б) Сильвестр в) Нестор г) Лаврентий

7. Прозвище Донской, князь Дмитрий Иванович получил за:

- а) проведение переписи населения в Москве б) создание «Русской Правды»
в) победу над монголами в Куликовской битве г) Победу в Ледовом побоище

8. Система содержания должностных лиц, за счёт местного населения

- это:

- а) приказы б) местничество в) кормление г) налоги

9. В каком году был подписан Верденский договор о разделе империи Карла Великого:

- а) 476 б) 732 в) 800 г) 843

10. К какому веку относится начало Столетней войны:

- а) XI б) XII в) XIII г) XIV

Шифр участника _____

Ответ:

| № | 1 | 2 | 3 | 4 | 5 | 6 | 7 | 8 | 9 | 10 |
|------|---|---|---|---|---|---|---|---|---|----|
| 1.1. | | | | | | | | | | |

1.2. Верно ли утверждение?

Максимальный балл – 5 (по 0,5 балла за каждый правильный ответ).

1. В XV в. в Европе появлялись аркебузы - ручное огнестрельное оружие, прообраз современного ружья, прицельно стрелять из которого можно было на расстоянии 30-35 м.

2. Ахмат совершил набег на Москву в 1382 г.

3. После смерти Тимура в течение XV в. Золотая Орда стала распадаться на отдельные ханства.

4. Василий II женился на племяннице последнего византийского императора Софье Палеолог.

5. По преданию Куликовская битва началась с поединка ордынского богатыря Челубея и русского воина Пересвета.

6. При Ярославе Мудром был построен Софийский собор в Киеве

7. Святослав Игоревич полностью разгромил Волжскую Булгарию.

8. Борис и Глеб, убитые в междоусобной борьбе старшим братом Святополком, впоследствии были причислены к лику святых.

9. Одним из главных событий правления Ивана III стало свержение монгольского ига.

10. Владимир Святославич провел языческую реформу в 980 г.

Ответ:

| № | ВЕРНО | НЕВЕРНО |
|------|-------|---------|
| 1.2. | | |

Задание 2.

Определите и запишите принцип образования каждого логического ряда, найдите и выпишите лишний элемент в каждом ряду. Объясните, почему данный элемент является лишним.

Максимальный балл – 3 (0,5 балла за лишнее понятие, 0,5 балла за объяснение).

Шифр участника _____

2.1. Грановитая палата Кремля, Золотые ворота во Владимире, Церковь Покрова на Нерли, Церковь Спаса на Нередице, Церковь Параскевы Пятницы в Новгороде

2.2. Василий II, Иван Калита, Дмитрий Донской, Андрей Боголюбский, Иван III

2.3. Пожилое, Юрьев день, закупы, помещик, владельческие крестьяне

Ответ:

2.1. _____

Лишнее слово - _____

2.2 _____

Лишнее слово - _____

2.3 _____


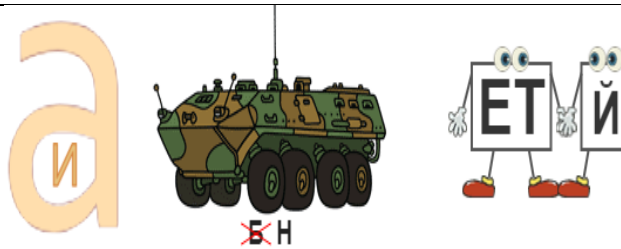
Лишнее слово - _____

Задание 3.

Какое имя правителя зашифровано в ребусе. Назовите его прозвище.

Кто правил до него.

Максимальный балл – 12 (1 балл за каждую правильно указанную позицию-имя, прозвище, предшественник).

| | | | |
|---|---|---|--|
| 1 |  | 3 |  |
| 2 |  | 4 |  |

Шифр участника _____

Ответ:

| № | Имя правителя | Прозвище | Предшественник |
|---|---------------|----------|----------------|
| 1 | | | |
| 2 | | | |
| 3 | | | |
| 4 | | | |

Задание 4.

Заполните пропуски в тексте. Ответ оформите в виде перечня элементов под соответствующими номерами.

Максимальный балл – 10 (1 балл за каждый правильный ответ).

«В тот (1- год) сказала (2 – термин) „Отроки Свенельда изоделись оружием и одеждой, а мы наги. Пойдем, князь, с нами за (3 – термин), и себе добудешь, и нам“. И послушал их (4 – имя князя) — пошел к (5 – название племени) за и прибавил к прежней новую, и творили насилие над ними мужи его. Взяв, пошел он в свой город. Когда же шел он назад, поразмыслив, сказал своей: „Идите с домой, а я возвращусь и похожу еще“. И отпустил свою домой, а сам с малой частью вернулся, желая большего богатства. же, услышав, что идет снова, держали совет с князем своим (6 – имя князя): „Если повадится волк к овцам, то вынесет все стадо, пока не убьют его; так и этот: если не убьем его, то всех нас погубит“. И послали к нему, говоря: „Зачем идешь опять? Забрал уже всю“. И не послушал их; и, выйдя из города (7-город), убили князя и дружинников его, так как было их мало...(8-имя княжны) же была в (9-город) с сыном своим, ребенком (10-имя ребенка). Сказали же: „Вот убили мы князя русского, возьмем жену его за князя нашего и сына ее возьмем, и сделаем ему, что захотим“...»

Ответ:

| | | | |
|---|--|----|--|
| 1 | | 6 | |
| 2 | | 7 | |
| 3 | | 8 | |
| 4 | | 9 | |
| 5 | | 10 | |

Шифр участника _____

Задание 5.

Выполните задания.

Максимальный балл – 10

5.1. Расположите события в хронологической последовательности

За полностью правильную последовательность – 7 баллов.

- А. Заключение договора Игоря с Византией
- Б. Изобретение книгопечатания И.Гутенбергом
- В. Смерть Мстислава Великого
- Г. Возникновение империи Карла Великого
- Д. Строительство Софийского собора в Киеве
- Е. Присоединение Твери к Московскому государству
- Ж. Начало княжения Ярослава Мудрого в Киеве

Ответ: Укажите буквы, под которыми обозначены события

| 1 | 2 | 3 | 4 | 5 | 6 | 7 |
|---|---|---|---|---|---|---|
| | | | | | | |

5.2. Решите исторический пример

Максимальный балл – 3 балла (1 балл. за правильно указанный год, 2 балла за правильное объяснение события).

(год стояние на р.Угре) – (год Куликовской битвы)+(год призвание Рюрика) = (? год _____) - какое событие произошло в этот году?

Ответ:

_____ г. – _____ г. + _____ г. = _____ г.

Объяснение: _____

Задание 6.

Внимательно рассмотрите карту и выполните предложенные задания.

Максимальный балл – 7 (по 1 баллу за каждый правильно названный элемент).

Шифр участника _____



6.1. Назовите торговый путь в Древней Руси, обозначенный на карте (1 балл).

Ответ: _____

6.2. Как назывался водный торговый маршрут, соединявший Балтийское и Каспийское моря, позволявший вести торговлю с арабскими странами? (1 балл).

Ответ: _____

6.3. Напишите названия городов, обозначенных цифрам 1, 4, мимо которых проходил этот торговый путь (соблюдайте порядок названий). (2 балла).

Ответ: _____

6.4. Назовите государство, с которым заключали договоры русские князья. (1 балл). Укажите имя князя, прибавшего щит на ворота столицы загаданного государства. (1 балл).

Ответ: _____

6.5. Укажите, название моря, указанное цифрой «3». (1 балл).

Ответ: _____

Шифр участника _____

Задание 7.

Какие события отражены на иллюстрациях. Укажите по одной личности, обозначенной на данных картинках.

Максимальный балл – 12 (по 2 балла за каждый правильный ответ).




№ 1



№ 2



№ 3



№ 4



№ 5



№ 6

Шифр участника _____





Ответ:

| | № 1 | № 2 |
|----------|-----|-----|
| Событие | | |
| Личность | | |
| | № 3 | № 4 |
| Событие | | |
| Личность | | |
| | № 5 | № 6 |
| Событие | | |
| Личность | | |

Задание 8.

Посмотрите на архитектурные сооружения и укажите: 1) название архитектурных сооружений (1 балл); 2) время их создания (с точностью до половины столетия) (1 балл); 3) имя князя, при котором они были построены (1 балл); 4) место их расположения (1 балл).

Максимальный балл – 16.

| | | | | |
|---|---|---|--|--|
| 1 |  | 3 |  | |
| 2 |  | 4 |  | |

Шифр участника _____

Ответ:

| № | Название | Время создания | Имя князя | Место |
|---|----------|----------------|-----------|-------|
| 1 | | | | |
| 2 | | | | |
| 3 | | | | |
| 4 | | | | |

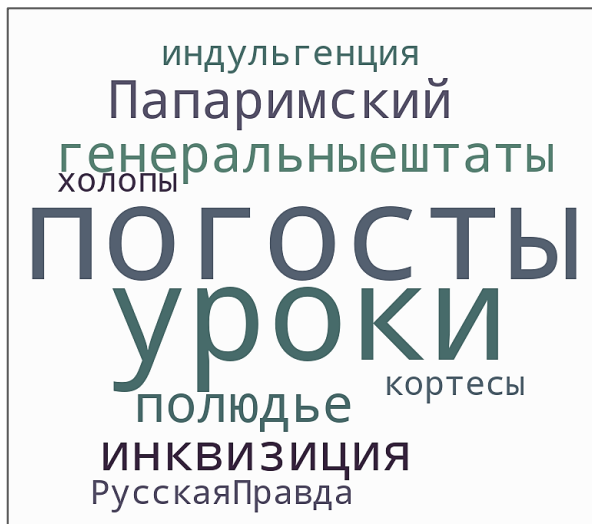
Задание 9.

Выполните задания.

Максимальный балл – 15.

9.1. Расположите понятия, относящиеся к истории России и Всемирной истории в таблицу.

Максимальный балл – 10 (по 0,5 балла за каждый правильный расположенный элемент).



Ответ:

| Российская история | Всемирная история |
|--------------------|-------------------|
| | |

Шифр участника _____

9.2. Выберите любые 5 терминов из задания 9.1. и дайте им определения.

Максимальный балл – 5 (1 балл за правильное определение).

Ответ:

| № | Термин | Определение |
|---|--------|-------------|
| 1 | | |
| 2 | | |
| 3 | | |
| 4 | | |
| 5 | | |

Задание 10.

Выполните задания.

Максимальный балл – 5 (по 0,5 балла за каждый правильный ответ).

10.1. Какие памятники г. Омска посвящены Великой Отечественной войне? (1,5 балла)

| №1 | №2 | №3 | №4 |
|---|---|--|---|
|  |  |  |  |

Ответ: _____

Шифр участника _____

10.2. Ответьте на вопросы

Максимальный балл – 2 (по 0,5 балла за каждый правильный ответ).

У какого музея установлена скульптура № 1? (название музея)

Ответ: _____

Напишите название приходского храма, находящегося недалеко от скульптуры № 2.

Ответ: _____

В каком парке располагается памятник №3?

Ответ: _____

Название остановки общественного транспорта, рядом с которой расположен комплекс №4?

Ответ: _____

10.3. Соотнесите факт и номер изображенного памятника

Ответ:

| Факт | № памятника |
|--|-------------|
| Данный памятник был открыт в 1985 году, высотой 22 метра (0,5 балла) | |
| Авторами скульпторы стали С. А. Голованцев и архитектор М. М. Хахаев (0,5 балла) | |
| Комплексы этой скульптуры были отлиты в Мытищах московской области (0,5 балла) | |